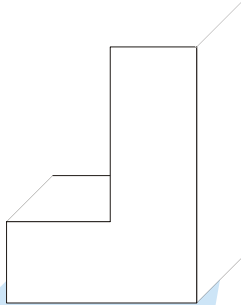

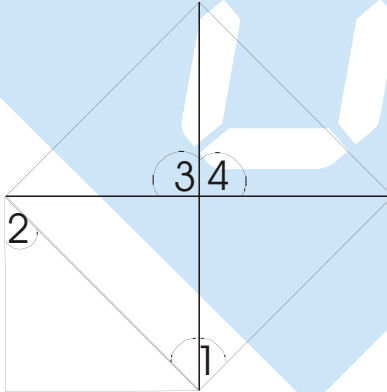


Schulform	Fach	Klassenstufe	Thema der Arbeit	Datum	Bearbeitungszeit
Realschule	Mathematik	6	Geometrie	2001-04-04	45 Minuten

1. Zeichne das Schrägbild in dein Heft und ergänze die noch fehlenden Kanten. Zeichne die unsichtbaren Kanten gestrichelt ein.

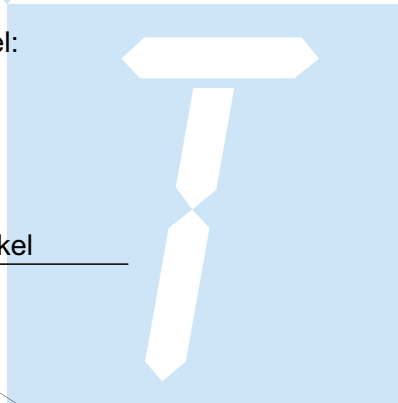


2. Gib an, ob es sich bei den Winkeln um spitze, rechte oder stumpfe Winkel handelt.

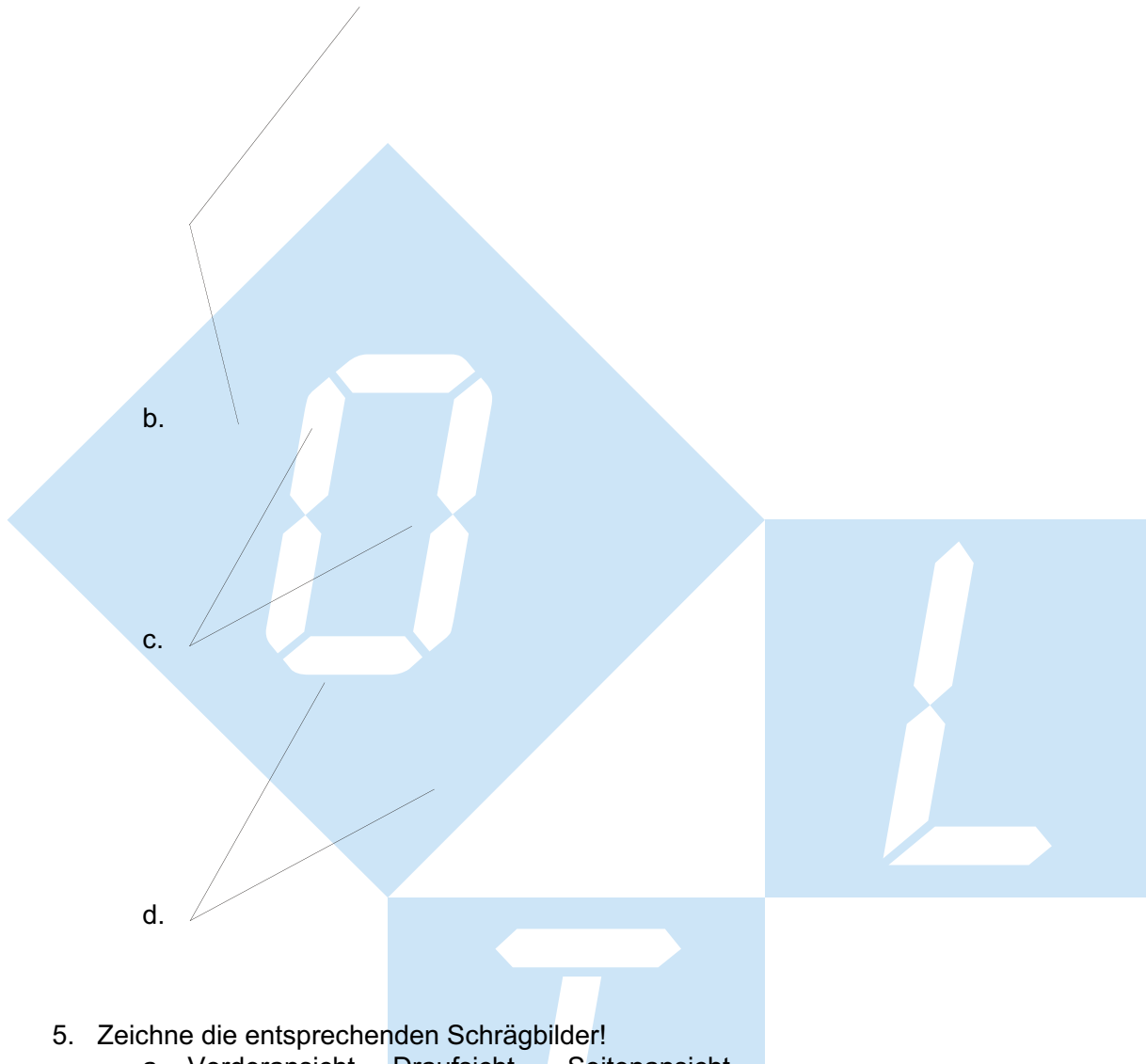


3. zeichne folgende Winkel:
- 45°
 - 108°
 - 175°
 - 8°

4. Miss die folgenden Winkel

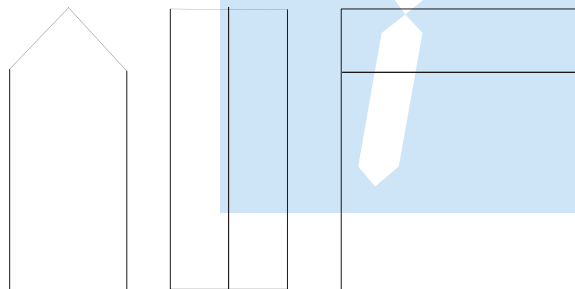


a.




5. Zeichne die entsprechenden Schrägbilder!

a. Vorderansicht – Draufsicht – Seitenansicht



b. Vorderansicht – Draufsicht – Seitenansicht



6. Zeichnen Vorder-, Drauf- und Seitensicht (von rechts)!

